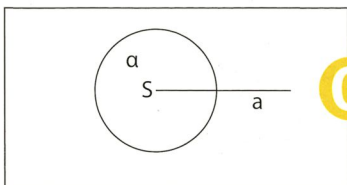




1

Ordne die Winkel ihren Winkelarten und Beschreibungen zu! Verbinde dazu die passenden Kästchen! Du erhältst eine Lösung, wenn du die Buchstaben der Reihe nach in das Lösungsfeld einträgst. Beginne links oben!



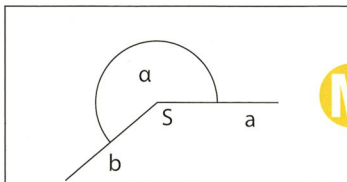
G

gestreckter Winkel

E

 $90^\circ < \alpha < 180^\circ$

L



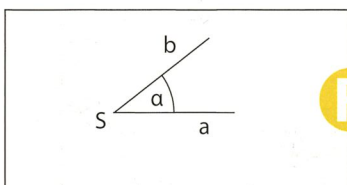
M

spitzer Winkel

I

 $\alpha = 180^\circ$

N



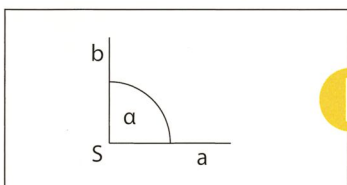
R

rechter Winkel

S

 $180^\circ < \alpha < 360^\circ$

T



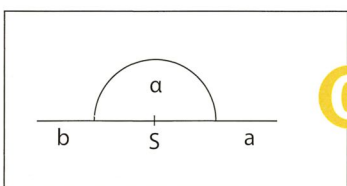
I

stumpfer Winkel

A

 $0^\circ < \alpha < 90^\circ$

E



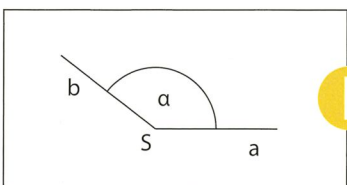
G

erhabener Winkel

E

 $\alpha = 360^\circ$

O



I

voller Winkel

E

 $\alpha = 90^\circ$

T

--	--	--	--	--	--	--	--	--

--	--	--

								!
--	--	--	--	--	--	--	--	---